

*Будова Віктор*

Школьный этап Всероссийской Олимпиады школьников по ОБЖ  
2023 – 2024 учебный год

**Задания для 2-й возрастной группы (7 – 8 классы)**

Теоретическая часть школьного этапа Всероссийской Олимпиады  
школьников по ОБЖ  
2022 – 2023 учебный год

Максимальное время выполнения заданий: 45 минут

Максимальное количество набранных баллов: 90 баллов

Имя	

*В. Эта часть работы содержит теоретические задания. Вам предлагается дать свой вариант ответа на данные вопросы.*

**Задание 1.**

Каждый визуальный сигнал «говорит» – посылает, примененный при поисково-спасательных операциях, имеет определенное значение. Установите соответствие между изображенным сигналом и его значением.

<b>У</b>		
<b>К</b>		
<b>Ф</b>		

«Нужны вода и еда»	4
«Вид в порядке»	
«Формы сигнальные лампы с батареей и радиостанцией»	
«Укажите направление следования»	4
«Да, все нормально»	4
«Грибок» карта и климат»	4
«Здесь можно безопасно совершить посадку»	4

20

**Задание 2**

Оцените рекомендацию МЧС России период нахождения пропавшего по сигналу «Внимание, беда! Хватается тревога!» тамож:

1. Водитель машины и человек рядом \_\_\_\_\_ +
2. Все в порядке \_\_\_\_\_ +
3. Встретившись из друзей \_\_\_\_\_ +
4. Пожар \_\_\_\_\_ +
5. Срочно вызвать пожарную службу \_\_\_\_\_ +

20

**Задание 3.** Расставьте слова в правильной последовательности и прочитайте пословицу (на основе правильно написанную пословицу 2 балла, максимальное кол-во баллов – 20)

Неправильная пословица	Правильная пословица
1. Кто занимается силой, тот доберется спортом.	<i>Кто занимается спортом, тот доберется силой.</i>

**Школьный этап Всероссийской Олимпиады школьников по ОБЖ  
2023 – 2024 учебный год**

2. Завкалй дна тело для е велькой сое.	
3. Утро марской привоклок, вечер прогулкой встречает.	<i>Зане марская привоклок, вечер прогулкой встречает.</i>
4. Спорт в организм укрепляет турата.	<i>Спорт в организм укрепляет турата.</i>
5. Умеренность отя враней целебнее, чем в слс.	<i>Умеренность отя враней целебнее, чем в слс.</i>
6. Лоской собе мыкату и выкой члвокок коклет.	
7. Завтрак отдай врагу, обед скуный сам, а ужин свой подели с другом.	
8. Укладываясь спать бодрям, проснись с пустым желудком.	
9. От безделья чрезмерного - дурь заводится, в труде активном - волл нагоняется.	
10. Улыбка нам - сулит только человека, а злоба - продления века спорт.	

1/1  
2/1  
-  
4/0

**II.** Это часть работы сдерживая задания с выбором одного правильного ответа. К каждому заданию даны несколько вариантов ответа, один из которых — верный. Обязательно прочитайте каждое задание и все варианты ответов. Всегда внимательно выбирайте один правильный ответ.  
Каждый правильный ответ 2 балла, максимум — 10 баллов

- Для обеспечения своей безопасности при движении по улицам города необходимо:
  - а) зить правила дорожного движения.
  - б) быть внимательным и осторожным;
  - в) быть всегда в сопровождении взрослого человека.
2. Необходимо по льду переходить пешком или раку. Какой лёд наиболее прочен?
  - а) лёд белого цвета;
  - б) лёд, выходящий сивый оттенок;
  - в) лёд жёлто-коричневого оттенка.
3. Если в метро остановился эскалатор, что необходимо делать?
  - а) идти по движению эскалатора пешком;
  - б) стоять и держаться за поручень;
  - в) сесть на ступеньку и держаться за поручень.
4. В каком месте можно переходить проезжую часть дороги при отсутствии пешеходных переходов:
  - а) на повороте дороги налево;
  - б) рядом с перекрёстком;
  - в) где дорога просматривается во все стороны.
5. В квартире вечером произошла утечка газа. Можно ли выключить свет?
  - а) всегда;
  - б) можно;
  - в) можно, после отключения газа.

0  
1/1  
0  
1/1  
0

Школьный этап Всероссийской Олимпиады школьников по ОБЖ  
2023 – 2024 учебный год

6. На первом этаже ты поднял лифт. К тебе подошел незнакомый человек и предложил войти в лифт. Твоя реакция?
- а) пообщаться с незнакомым человеком в лифте;
  - б) вежливо отклониться, сказав, что ждешь гостя;
  - в) убежать на улицу.
7. По какому номеру телефона нужно обратиться за помощью при пожаре?
- а) 01;
  - б) 02;
  - в) 03.
8. От края телевизора необходимо сидеть на расстоянии:
- а) 1 метр;
  - б) 2-3 метра;
  - в) 5-6 метров.
9. Как велосипедист должен сигнализировать при повороте направо?
- а) отводит правую руку в сторону или стбляет левую руку в ленте;
  - б) поднимает правую руку вверх;
  - в) отводит левую руку в сторону или стбляет правую руку в ленте.
10. Какое транспортное средство наиболее опасно на дороге?
- а) стоящий автомобиль;
  - б) джипу кабина справа автомобиля;
  - в) джипу кабина слева мотоциклист.
11. В каком случае возникает наиболее опасная нестандартная ситуация в квартире?
- а) проникновение вора в квартиру;
  - б) затопление при аварии водоснабжения;
  - в) пожар в квартире.
12. Какие защитные мероприятия необходимы для роулера?
- а) шлем, наколенники, налокотники;
  - б) шлем, наколенники, налокотники, специальные перчатки, предохранители шлемом;
  - в) шлем, наколенники, налокотники, перчатки.
13. Если вы едете в транспорте в холодное время, то безопаснее:
- а) сесть на последнее место;
  - б) сесть на свободное место;
  - в) место ближе к кабине водителя или проводу.
14. Что необходимо сделать, если вы потерялись в городе?
- а) обратиться к встречному прохожему;
  - б) обратиться к милиционеру, охраннику Сбербанка;
  - в) сесть в такси.
15. При чтении книги должна находиться от глаз на расстоянии:
- а) 15-20 см;
  - б) 20-25 см;
  - в) 30-35 см.

Handwritten marks and notes on the right side of the page, including checkmarks, a large '0', and the signature 'СОВ. МУ. АД'.

ОУ Искуновская СОШ филиал МБОУ Момотовская СОШ

Протокол проведения всероссийской олимпиады школьников по

Дата 24.09.2024 Максимальное количество баллов

0671  
50

№	ФИО	к ла сс																Итого балов	Результат	
			1	2	3	4	5	6	7	8	9	10	11	12	13	14	15			
1	Степанюк Данил	6	2	2	0	2	2	2	2	0	2	2	0	2	2	2	0	26		
2	Мелев Д	6	5	0	0	0	2	2	2	2	0	2	2	0	2	0	2	2	23	

Подпись

Сайт —

ОУ Инскуповская СОШ филиал МБОУ Момотовская СОШ

Протокол проведения всероссийской олимпиады школьников по

Дата 24.09.2024 Максимальное количество баллов 90

Общ

№	ФИО	к ла сс																Итого балов	Резуль тат		
			1	2	3	1	2	3	4	5	6	7	8	9	10	11	12			13	14
1	Тригорьева	4	4	2	0	0	2	2	2	2	2	0	0	0	2	2	0	2	0	34	
2	Тригорьева	4	0	0	4	0	2	2	0	0	2	0	0	0	0	2	2	2	2	18	

Подпись

Сайф

ОУ Искуновская ООШ филиал МБОУ Момотовская СОШ

Протокол проведения Всероссийской олимпиады школьников по

Обж

Дата 24.09.2024 Максимальное количество баллов 90

№	ФИО	Класс	Вопросы															Итого баллов	Результат			
			1	2	3	1	2	3	4	5	6	7	8	9	10	11	12			13	14	15
1	Серов И	8	20	20	4	0	2	0	2	0	2	2	0	0	0	2	2	2	2	0	60	
2	Шимоненко	8	20	20	4	0	2	0	2	0	2	2	0	2	0	2	2	2	2	0	60	

Подпись: Сайф

ОУ Пискаревская СОШ филиал МБОУ Момотовская СОШ

Протокол проведения всероссийской олимпиады школьников по *ОБЖ*

Дата *24.09.2024* Максимальное количество баллов *55*

№	ФИО	к ла сс																Итого баллов	Резуль тат		
			1	2	3	4	5	6	7	8	9	10	11	12	13	14	15				
1	<i>Чижиков А</i>	9	10	5	2	2	2	2	0	2	2	2	0	0	0	0	2	0	0	31	
2	<i>Костюк С</i>	9	1	5	0	0	2	0	0	0	0	2	2	2	0	0	2	0	0	16	

Подпись *Сидяев*

Самаринский В. В.

ВСЕРОССИЙСКАЯ ОЛИМПИАДА ШКОЛЬНИКОВ  
ПО ОБЖ  
ШКОЛЬНЫЙ ЭТАП  
2023-2024 УЧЕБНЫЙ ГОД  
(5 – 6 классы)

Максимальное время выполнения заданий: 45 минут

Максимальное количество набранных баллов: 20

Теоретическая часть

Имя	

1. Эта часть работы содержит теоретические задания.  
Вам предлагается дать свой вариант ответа на данные  
вопросы

Задача 1.

Все участники дорожного движения, в том числе и пешеходы должны не только знать, но и понимать правила дорожного движения и правила безопасного поведения на улицах и дорогах. С учетом этого, Вам предлагается ответить на вопросы, приведя аргументированные ответы.

1. Почему нельзя переходить дорогу на желтый сигнал светофора?

Потому что желтый сигнал означает, что скоро будет красный сигнал светофора, поэтому переходить на желтый сигнал нельзя.

2. Переходя дорогу, пешеход неправильно изменил направление и скорость движения. Почему это опасно?

Пешеход может попасть в ДТП, так как водители не ожидают его в этом месте и скорости.

3. Какие обязанности пешеходов пешеходов, собирающихся переходить улицу на пешеходном переходе, если напротив остановился грузовой автомобиль, автобус, троллейбус?

Пешеходы должны остановиться перед автомобилем, автобусом, троллейбусом и подождать, пока они не проедут. Если пешеходы не остановятся, они могут попасть в ДТП.



Задание 2.

I. Находясь в своей квартире, вы обнаружили пожар на кухне (погорела часть предметов из полиэтиленовой упаковки). Оцените безопасные действия в данной ситуации.

Вызвать пожарную команду, накрыть пыльной тканью выходящий огонь, накрыть одеялом себя и окружающих, отойти от двери.

II. Эта часть работы содержит задания с выбором верных вариантов ответа. К каждому заданию дается один вариант ответа, необходимо выбрать верный вариант ответа. Внимательно прочитайте каждое задание и все варианты ответов. Обведи кружочком выбранные вами варианты ответов.

1. Для обеспечения своей безопасности при движении по улице города необходимо:

- а) знать правила дорожного движения;
- б) быть внимательным и осторожным;
- в) быть всегда в сопровождении взрослого человека.

2. Необходимо по льду проложить путь к реке. Какой лед наиболее прочен?

- а) лед белого цвета;
- б) лед, выкопанный свечной отливом;
- в) лед желто-коричневого оттенка.

3. Если в метро остановился эскалатор, что необходимо делать?

- а) идти по лестнице эскалатора пешком;
- б) стоять и держаться за поручень;
- в) сесть на ступеньку и держаться за поручень.

4. В каком месте можно переходить проезжую часть дороги при отсутствии пешеходных переходов:

- а) на повороте дороги налево;
- б) рядом с перекрестком;
- в) там, где дорога просматривается на все стороны.

5. В квартире вечером произошла утечка газа. Можно ли включать свет?

- а) нельзя;
- б) можно;
- в) можно, после отключения газа.

2

6. На первом этаже ты вызвал лифт. К тебе подошел незнакомый человек и предложил войти в лифт. Твои действия?

- а) войдешь с незнакомым человеком в лифт;
- б) вежливо отказываешься, сказав, что ждешь лифт;
- в) убежишь на улицу.

2

7. По какому номеру телефона нужно обратиться за помощью при пожаре?

- а) 01;
- б) 02;
- в) 03.

0

8. От экрана телевизора необходимо сидеть не ближе:

- а) 1 метр;
- б) 2-3 метра;
- в) 5-6 метров.

2

9. Как велосипедист должен сигнализировать при повороте направо?

- а) отводит правую руку в сторону поворота или сгибает левую руку в локте;
- б) поднимает правую руку вверх;
- в) отводит левую руку в сторону поворота или сгибает правую руку в локте.

2

10. Какое транспортное средство наиболее опасно на дороге?

- а) стоящий автомобиль;
- б) движущийся справа автомобиль;
- в) движущийся слева мотоциклист.

0

11. В каком случае возникает наиболее опасная экстремальная ситуация в жилище?

- а) проникновение вора в квартиру;
- б) затопление при аварии водопровода;
- в) пожар в квартире.

2

12. Какие защитные мероприятия необходимы для роллера?

- а) шлем, наколенники, налокотники;
- б) шлем, наколенники, налокотники, специальные перчатки, предохранительные маечки;
- в) шлем, наколенники ; налокотники; перчатки.

2

13. Если вы сидите в транспорте в свободное время, то обязательно:

- а) сесть на последнюю место;
- б) сесть на свободное место;
- в) сесть ближе к кабине водителя или проводу.

2

14. Что необходимо сделать, если вы потерялись в горке?

- а) обратиться к встреченному взрослому;
- б) обратиться к милиционеру, охраннику Сбербанка;
- в) сидеть и плакать.

2

15. При чтении книга должна находиться от глаз на расстоянии:

- а) 15-20 см;
- б) 20-25 см;
- в) 30-35 см.

0

265.

*Горюхиной А.А.*

**Школьный этап Всероссийской олимпиады школьников по ОБЖ  
2023 – 2024 учебный год**

**Задание (9 класс)**

**Теоретическая часть школьного этапа Всероссийской Олимпиады школьников по ОБЖ.**

Максимальное время выполнения задания: 45 минут







Максимальное количество набранных баллов: 53 балла

Имя	

1. Эта часть работы содержит теоретические задания. Вам предлагается дать свой вариант ответа на данные вопросы





1. Соответствие названий условных знаков топографических карт с их изображениями, или с предложением или буквенное обозначение. (10 баллов)

За каждый правильный ответ начисляется 1 (один) балл. За неверно указанной – 0 (ноль) баллов.

1	
2	
3	
4	
5	
6	

А	Дом с трубой
Б	Буреломы
В	Колодезь
Г	Мосты
Д	Язы
Е	Лука

**Школьный этап Всероссийской олимпиады школьников по ОБЖ**  
2023 – 2024 учебный год

7	
8	
9	
10	

Ж	Земля дороги
З	Пески ровные
И	Овраги
К	Памятник

1	2	3	4	5	6	7	8	9	10
З	К	И	Е	Ж	Б	А	А	Г	В
1	1	1	1	1	1	1	1	1	1

1. Выберите действия, которые необходимо совершать при радиационной аварии в не радиационно загрязненной местности. Ответы занесите в таблицу, расположенную ниже (15 баллов)  
За каждый правильный ответ выставляется 1 (один) балл. За неверно указанные – 0 (ноль) баллов. За правильные количество выделенных таблиц добавляется 2 (два) балла.

1. Тщательно мыть руки перед едой и полоскать рот 0,5% раствором соды.
2. При получении указанной чертой СМН провести профилактику, принятая в течение 7 дней по одной таблетке (0,125 г) йодированного калия, а для детей до 2-х лет – ¼ часть таблетки (0,04г.).
3. Сделать запас воды в герметичных емкостях, открытые продукты завернуть полиэтиленовую пленку и поместить в кофевалынок;
4. Для защиты органов дыхания использовать респиратор или смоченную водой ватно-марлевую повязку;
5. В помещении ежедневно производить тщательную влажную уборку с применением моющих средств;
6. Воду употреблять только из проверенных источников, а продукты питания – приобретенные в магазинах;
7. Загерметизировать вентиляционные отверстия, щели и окна в дверях и не подходить к ним без особой надобности;
8. Закрыть окна и двери, включить телевизор и радиоприемник для получения дополнительной информации об аварии и указанной местных властей;
9. На открытой местности не раздеваться, не садиться на землю и не курить, не купаться в открытых водоемах и не собирать лесные грибы

105

**Школьный этап Всероссийской олимпиады школьников по ОБЖ  
2023 – 2024 учебный год**

и ягоди;

10. Оставайтесь в укрытии, немедленно снять верхнюю одежду и обувь, поместить их в полиэтиленовый пакет и принять душ;
11. Выходить из помещения только в случае необходимости и на коротком промежутке, использовать при этом респиратор, плащ, резиновые сапоги и перчатки;
12. Перед входом в помещение вымыть обувь, вытряхнуть и почистить влажной щеткой верхнюю одежду;
13. Находясь на улице, немедленно защитить органы дыхания платком, шарфом, срочно укрыться в помещении.

*Действия населения*

при радиационной аварии в не радиационно загрязненной местности

Действия населения	Оценки
При радиационной аварии	423,468
На радиационно загрязненной местности	99,391

*II. Эта часть работы содержит задания с выбором верных вариантов ответа. К каждому заданию дается один вариант ответа, необходимо выбрать верный вариант ответа. Внимательно прочитайте каждое задание и все варианты ответа. Обведи кружочком выбранные вами варианты ответа. (30 баллов)*

1. На что ориентирована система ГО?
  - a) на ликвидацию ЧС мирного времени;
  - b) на проведение спасательных работ;
  - в) на защиту населения в военное время от ОМП.
  
2. Из каких двух подсистем состоит система РСЧС?
  - а) территориальной и функциональной;
  - b) территориальной и производственной;
  - в) территориальной и федеральной.
  
3. Какими могут быть причины появления угарного газа в доме человека?
  - a) применение открытого огня в быту;
  - б) применение природного газа в быту;
  - в) применение бытовой и встраиваемой техники

Школьный этап Всероссийской олимпиады школьников по ОБЖ  
2023 – 2024 учебный год

4. Какой нормативно-правовой документ устанавливает правовые основы государственной политики в сфере оборота наркотических др. средств:

- а) Закон «О наркотических средствах и психотропных веществах»
- б) Федеральный закон «О безопасности»
- в) Конституция РФ

5. Какая ошибка допущена при перечислении запрещающих действий заложников, при захвате террористами транспортного средства? Заложникам не рекомендуется:

- а) вступать в переписку с террористами,
- б) провоцировать их к применению оружия,
- в) что бы не случилось, пытаться вступить за членов экипажа,
- г) заниматься физическими упражнениями и соблюдать правила личной гигиены.

6. Здоровье человека на 50% зависит от:

- а) экологических факторов;
- б) состояния медицинского обслуживания населения;
- в) наследственности;
- г) образа жизни.

7. Пассивный курящий — это человек:

- а) находящийся в одном помещении с курящим;
- б) выкуривающий до двух сигарет в день;
- в) выкуривающий одну сигарету ниточка.

8. Признаками алкогольного отравления являются:

- а) покраснение кожи, ухудшение слуха, отсутствие реакции зрачков на свет, улучшение аппетита, повышение иммунитета;
- б) головокружение, тошнота и рвота, уменьшение сердечных сокращений и понижение артериального давления, возбуждение или депрессивное состояние;
- в) отсутствие речи, повышение температуры и артериального давления.

9. Признаки наркотического отравления — это:

- а) повышение мышечного тонуса, сужение зрачков и ослабление их реакции на свет, покраснение кожи;
- б) тошнота и рвота, головокружение, кровотечение из носа, кашель, насморк;

Школьный этап Всероссийской олимпиады школьников по ОБЖ  
2023 – 2024 учебный год

насморк, горечь во рту, зловонный беспричинный смех, пожелтение кожи.

10. Признаки клинической смерти — это:

- отсутствие слуха, вкуса, наличие трупных пятен;
- отсутствие сознания, реакция зрачков на свет, пульса на сонной артерии и дыхания;
- отсутствие пульса и дыхания, онемение конечностей.

11. В каком порядке необходимо проводить закалывание носоглотки:

- полоскание горла теплой, а затем холодной водой;
- полоскание горла прохладной, а затем холодной водой;
- полоскание горла холодной водой в течение 5 минут.

12. Главным недостатком синтетических материалов является то, что они:

- плохо впитывают влагу с поверхности кожи;
- плохо греют;
- проводят электрический ток.

13. Алкоголизм — это:

- кратковременное состояние алкогольного опьянения;
- заболевание на почве пьянства в большинстве случаев с неблагоприятным прогнозом;
- умеренное потребление спиртных напитков.

14. Что составляет основу сил МЧС России?

- войска местной обороны;
- войска ГО;
- поисково-спасательная служба.

15. Международное гуманитарное право - это:

- совокупность норм, направленных на защиту прав человека в мирное время;
- совокупность норм, основанных на принципах гуманности и направленных на защиту жертв вооруженных конфликтов, на ограничение средств и методов войны;
- совокупность норм, направленных на защиту жертв стихийных бедствий.

№1	№2	№3	№4	№5	№6	№7	№8	№9	№10	№11	№12	№13	№14	№15