

Алексеева.

Т-6-1


**ВСЕРОССИЙСКАЯ ОЛИМПИАДА ШКОЛЬНИКОВ ПО ТЕХНОЛОГИИ
НОМИНАЦИЯ «КУЛЬТУРА ДОМА, ДИЗАЙН И ТЕХНОЛОГИИ»
2021-2022 УЧЕБНЫЙ ГОД
ШКОЛЬНЫЙ ЭТАП
6 класс**

- 16 1. (1 балл) Какие овощи относят к группе корнеплодов:
(отметьте знаком + правильный ответ)
- а) огурцы;
 - +б) редис;
 - +в) картофель;
 - г) баклажаны.

2. (1 балл) В жилых помещениях есть различные зоны, которые отличаются друг от друга функциональным назначением. Выберите и вставьте буквы к данным определениям зон жилого помещения:
(установите соответствие)
- а) спальня;
 - б) большой стол, который разделён на зоны для творчества, учёбы и компьютера;
 - в) столовая с большим столом и стульями, шкафом для посуды;
 - г) гостиная с мягким большим диваном, телевизором и журнальным столиком;
 - д) ванная и туалетные комнаты;
 - е) жилое помещение без изолированных комнат;
 - ж) кухня.

Зоны жилого помещения	Назначение (поставить букву)
Зона приготовления пищи	жс +
Зона приёма пищи	б +
Зона отдыха	г +
Зона сна	а +
Санитарно-гигиеническая зона	д +
Учебная зона	бс +
Квартира-студия	е +

3. (1 балл) На каком рисунке изображен потребитель электрического тока:



4. (1 балл) При выполнении работы в текстовом редакторе Word можно выполнять копирование слов. Для того чтобы подготовиться к копированию слова, необходимо: (отметьте знаком + правильный ответ)

- а) выделить слово;
- б) выделить абзац;
- в) установить на слово курсор;
- г) установить курсор на начало абзаца.

5. (1 балл) При выполнении работы за персональным компьютером можно открывать различные окна. Сколько окон разрешается открывать одновременно: (отметьте знаком + правильный ответ)

- а) не более одного;
- б) нет ограничений на количество открытых окон;
- в) не более двух;
- г) не более десяти.

6. (1 балл) Вид тепловой обработки, разновидность варки в небольшом количестве воды:

- (отметьте знаком + правильный ответ)
- а) жарка;
- б) тушение;
- в) припускание;
- г) запекание.

7. (2 балла) Укажите правильную последовательность технологических операций при приготовлении холодных блюд из вареных овощей:

- а) механическая обработка овощей (сортировка, мойка, очистка, промывание);
- б) нарезка овощей;
- в) украшение блюд и подача к столу;
- г) заправка салатов перед подачей к столу;
- д) тепловая обработка овощей;
- е) охлаждение овощей;
- ж) очистка вареных овощей.

8. (1 балл) Какая мерка не нужна при построении чертежа фартука:
(отметьте знаком + правильный ответ)

- а). Ди;
- б). Ст;
- в). Сб;
- г). Сш.

9. (1 балл) При изготовлении фартука применяются машинные швы:
(отметьте знаком + правильный ответ)

- а) накладной;
- б) запошивочный;
- в) вподгибку с закрытым срезом;
- г) расстрочной.


10. (1 балл) Для изготовления различных швейных изделий используют различные виды тканей. Как называется ткань, окрашенная в один цвет, называется:
(отметьте знаком + правильный ответ)

- а) набивная;
- б) пестротканая;
- в) гладкокрашенная;
- г) цветная.

11. (1 балл) Осыпаемость это:
(отметьте знаком + правильный ответ)

- а) свойство ткани уменьшаться в размерах после увлажнения;
- б) способность ткани удерживать тепло;
- в) свойство ткани впитывать влагу;
- г) выпадение и выскальзывание нитей на срезах.

12. (1 балл) Как называется деталь машины, которая на рисунке обведена кругом:



- а) маховое колесо;

- 40
- б) лапка;
 - в) моталка;
 - +г) педаль привода.

13. (2 балла) Укажите, в какой последовательности надо проводить операции при подготовке швейной машинки к работе:

- 05
- а) подложить ткань под лапку;
 - б) проколоть ткань иглой;
 - в) заправить верхнюю нить;
 - г) заправить нижнюю нить;
 - д) опустить лапку.

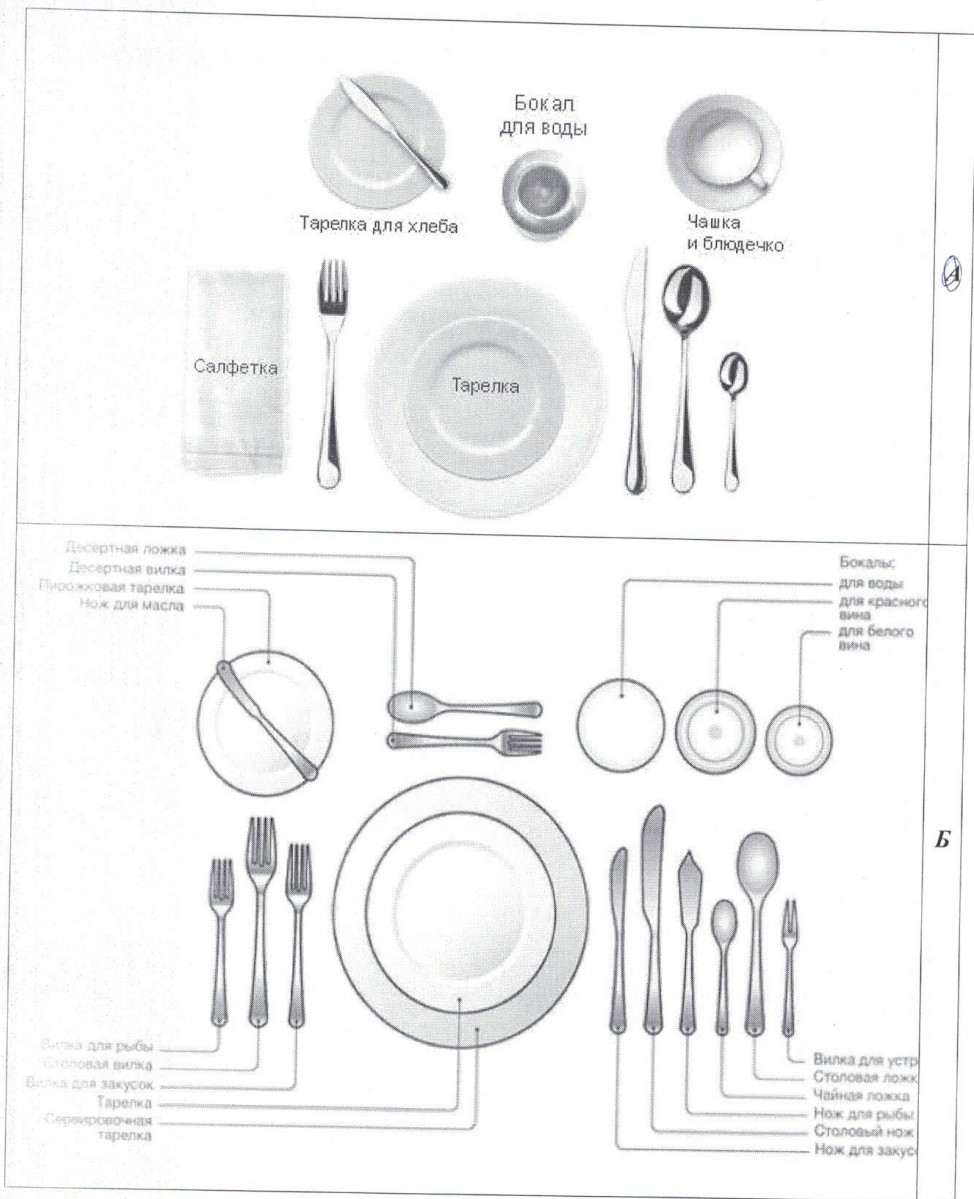
а б в г д

14. (1 балл) При изготовлении вышитых изделий важно провести окончательную влажно-тепловую обработку. Вышитые изделия утюжат:

- 15
- (отметьте знаком + правильный ответ)
- а) с лицевой стороны, через влажный проутюжильник, вдоль нитей ткани;
 - +б) с изнаночной стороны, через влажный проутюжильник, в любом направлении;
 - в) во влажном состоянии, на мягкой поверхности, с изнаночной стороны, вдоль нитей ткани.
 - г) не важно, как выполнять влажно-тепловую обработку вышитых изделий.

15. (4 балла) На каком рисунке представлена сервировка стола для завтрака:

45



Б

135 45 20